



## UZUPEŁNIA ZESPÓŁ NADZORUJĄCY

KOD UCZNIĄ

--	--	--

PESEL

--	--	--	--	--	--	--	--	--	--	--	--	--	--	--	--	--	--

*miejsce  
na naklejkę  
z kodem*

### EGZAMIN W KLASIE TRZECIEJ GIMNAZJUM CZĘŚĆ HUMANISTYCZNA

### HISTORIA I WIEDZA O SPOŁECZEŃSTWIE

#### Instrukcja dla ucznia

1. Sprawdź, czy zestaw zadań ma 19 stron (zadania 1–24).  
Brak stron lub inne błędy zgłoś nauczycielowi.
2. Czytaj uważnie wszystkie teksty i zadania.
3. Rozwiązania zadań zapisuj długopisem lub piórem z czarnym tuszem/atramentem. Nie używaj korektora.
4. W arkuszu znajdują się różne typy zadań.  
Do niektórych zadań są podane cztery odpowiedzi: A, B, C, D. Tylko jedna z nich jest poprawna. Wybierz ją i zaznacz znakiem **X**, np.:

A.            **X**.            C.            D.

5. W niektórych zadaniach zdecyduj, czy zdanie jest prawdziwe, czy fałszywe i zaznacz znakiem **X** wybraną odpowiedź, np.:

<b>X</b>	F
----------	---

    lub    

<b>X</b>	N
----------	---

6. Pozostałe zadania wykonuj zgodnie z poleceniami.
7. Jeśli się pomylisz, otocz znak **X** kółkiem i zaznacz inną odpowiedź, np.:

A.            

<b>X</b>
----------

**X**.            D.

8. Pisząc odpowiedzi do zadań, możesz wykorzystać miejsce opatrzone napisem **Brudnopis**. Zapisy w brudnopisie nie będą sprawdzane i oceniane.

**Powodzenia!**

**KWIECIEŃ 2013**

**Czas pracy:  
do 80 minut**



GH-H7-132

**Ilustracja i mapa do zadania 1.**



Źródło: [www.hellenica.de/\(...\)/Briefmarke/1964/pages/O1964\\_4.html](http://www.hellenica.de/(...)/Briefmarke/1964/pages/O1964_4.html)



Na podstawie: Daniel Dalet/d-maps.com

**Zadanie 1. (0–1)**

**Zaznacz dobrą odpowiedź.**

Ilustracja dotyczy cywilizacji, która powstała na obszarze oznaczonym na mapie numerem


A. 1.

B. 2.

C. 3.

D. 4.

**Taśma chronologiczna do zadania 2.**





**Zadanie 2. (0–1)**

**Zdecyduj, czy zdania są prawdziwe, czy – fałszywe. Zaznacz P, jeśli zdanie jest prawdziwe, lub F – jeśli jest fałszywe.**

W VI w. p.n.e. w starożytnym Rzymie zaczęła się republika.	<b>P</b>	<b>F</b>
Jezus Chrystus urodził się w okresie, gdy Rzym był cesarstwem.	<b>P</b>	<b>F</b>

### Ilustracje do zadania 3.



Źródła: <http://www.vismaya-maitreya.pl/dfgdfgergtret.jpg>  
<http://www.vismaya-maitreya.pl/dsffgggrg.jpg>  
[http://piotripawel.lodz.pl/files/\(...\).jpg](http://piotripawel.lodz.pl/files/(...).jpg)  
[http://www.real-life-church.org/wordpress/wp-content/uploads/2011/07/13015\(...\).jpg](http://www.real-life-church.org/wordpress/wp-content/uploads/2011/07/13015(...).jpg)

### Zadanie 3. (0–1)

Zaznacz dobrą odpowiedź.

Ilustracje charakterystyczne dla judaizmu są oznaczone numerami

- A. 1 i 2.
- B. 1 i 3.
- C. 2 i 4.
- D. 3 i 4.

**Tablica genealogiczna do zadania 4.**



Na podstawie: J. Wyrozumski, *Historia Polski do roku 1505*, Warszawa 1989.

**Zadanie 4. (0–1)**

**Zaznacz dobrą odpowiedź.**

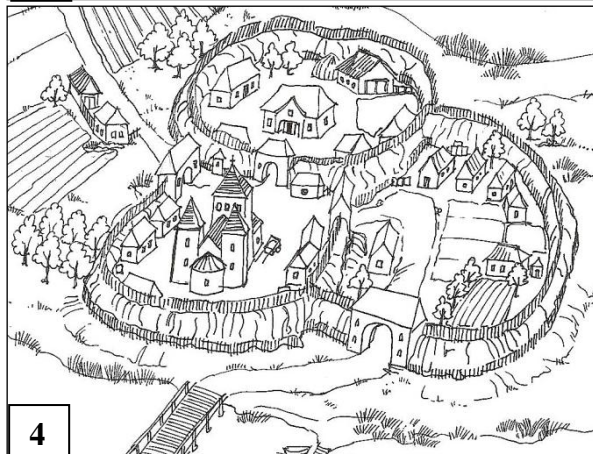
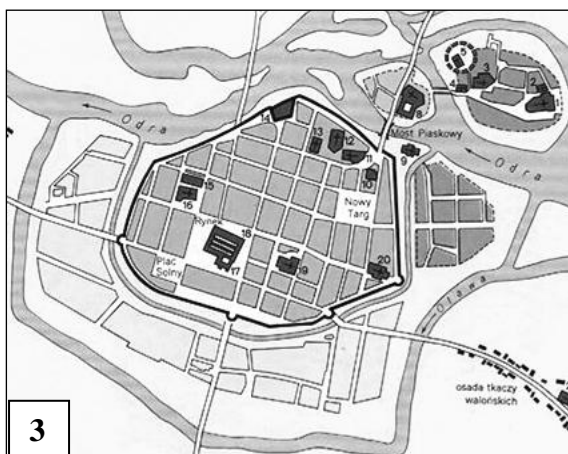
W XII wieku w Polsce rządził

- A. Mieszko II.
- B. Kazimierz Odnowiciel.
- C. Bolesław Śmiały.
- D. Władysław Herman.

## Tekst i ilustracje do zadania 5.

Lokacja miast na prawie niemieckim w XIII–XIV w. była organizowana przez polskich książąt, możnowładców, biskupów i klasztory. Miasta charakteryzowały się prostokątnym rynkiem i ulicami, które przecinały się pod kątem prostym. Miasto otaczano fortyfikacjami – były to mury i wieże z cegły.

Na podstawie: *Encyklopedia szkolna. Historia*, Warszawa 1993.



Źródło: [w:] L. Leciejewicz, *Słowianie zachodni. Z dziejów tworzenia się średniowiecznej Europy*, Wrocław 1989; [http://www.zory.pl/container/MIASTO//O\\_mie%C5%9Bcie//historia//grodzory.jpg](http://www.zory.pl/container/MIASTO//O_mie%C5%9Bcie//historia//grodzory.jpg); *Atlas historyczny. Od starożytności do współczesności*, PPWK Warszawa–Wrocław 1999.

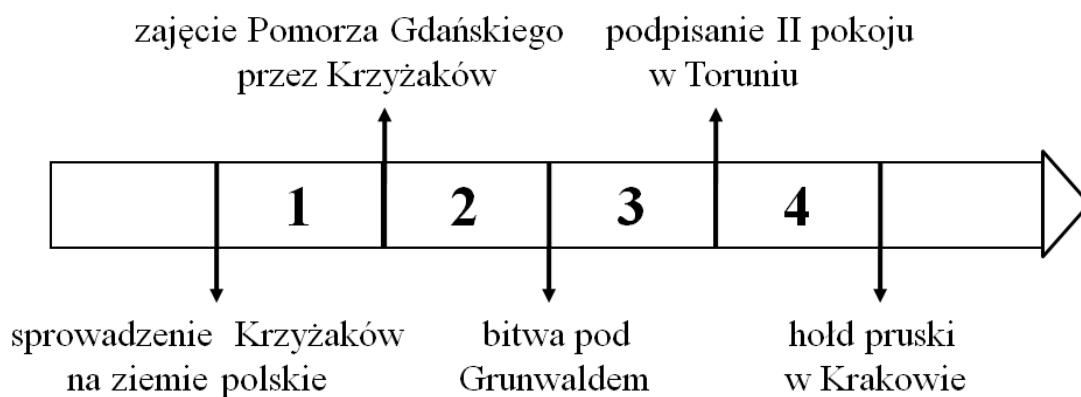
### Zadanie 5. (0–1)



Zaznacz dobrą odpowiedź.

Tekst mówi o ilustracjach oznaczonych numerami

- A. 1 i 2.
- B. 2 i 3.
- C. 3 i 4.
- D. 1 i 4.

**Taśma chronologiczna i mapa do zadania 6.**



-  ziemie należące do Królestwa Polskiego
-  lenno Królestwa Polskiego

Na podstawie: A. Dybkowska, J. Żaryn, M. Żaryn, *Polskie dzieje od czasów najdawniejszych do współczesności*, Warszawa 2007.

**Zadanie 6. (0–1)**

**Zaznacz dobrą odpowiedź.**

Przedstawione na mapie Prusy Zakonne to państwo zakonu krzyżackiego w okresie oznaczonym na taśmie chronologicznej numerem

- A. 1.
- B. 2.
- C. 3.
- D. 4.

### Tekst do zadania 7.

Celem związku Polski z Litwą było połączenie sił przeciwko Krzyżakom. Po przyjęciu przez Litwę chrztu Krzyżacy już nie mieli powodu, aby napadać na Litwę.

### Zadanie 7. (0–1)

**Zaznacz dobrą odpowiedź.**

W tekście opisane są przyczyny

- A. podpisania unii w Krewie.
- B. chrystianizacji ziem polskich.
- C. sprowadzenia Krzyżaków na ziemie polskie.
- D. wojen polsko-szwedzkich o Bałtyk.

### Tekst do zadań 8. i 9.

Na walnym sejmie radomskim w 1505 r. król, senatorowie i posłowie zdecydowali, że od tego czasu nic nowego (*nihil novi*) nie będzie uchwalone bez wspólnej zgody senatorów i izby poselskiej. Była to tzw. konstytucja *Nihil novi*.

### Zadanie 8. (0–1)

**Zdecyduj, czy zdania są prawdziwe, czy – fałszywe. Zaznacz P, jeśli zdanie jest prawdziwe, lub F – jeśli jest fałszywe.**

Konstytucja <i>Nihil novi</i> zwiększyła władzę króla.	<b>P</b>	<b>F</b>
Zgoda izby poselskiej była potrzebna do uchwalenia prawa.	<b>P</b>	<b>F</b>

### Zadanie 9. (0–1)

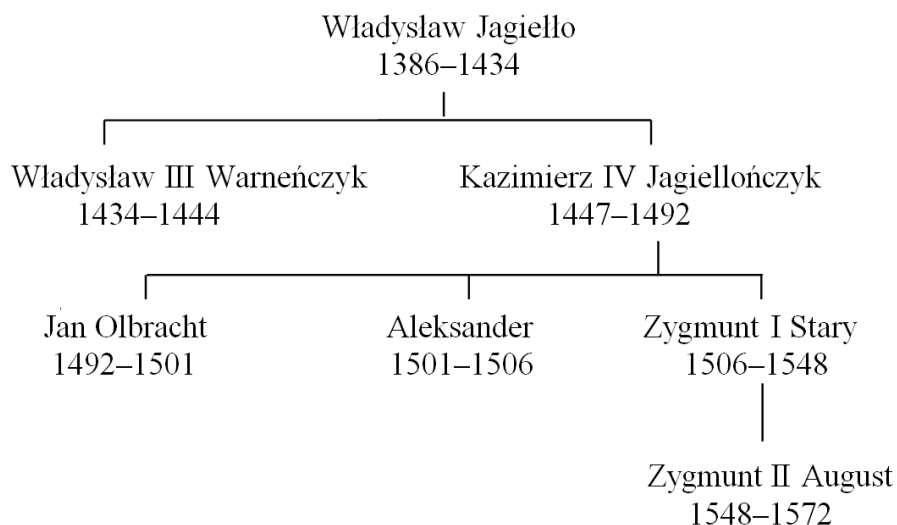
**Zaznacz dobrą odpowiedź.**

Konstytucja *Nihil novi* była uchwalona w czasie rządów dynastii

- A. Piastów.
- B. Andegawenów.
- C. Jagiellonów.
- D. Wazów.



### Tablica genealogiczna do zadania 10.



#### Zadanie 10. (0-1)

Zaznacz dobrą odpowiedź.

Reformacja rozpoczęła się w okresie kiedy w Polsce rządził

- A. Władysław Jagiełło.
- B. Kazimierz Jagiellończyk.
- C. Jan Olbracht.
- D. Zygmunt Stary.

#### Tekst do zadania 11.

W Rzeczypospolitej były kłótnie w sprawie religii chrześcijańskiej. W czasie pierwszej wolnej elekcji szlachta zdecydowała, że będzie pokój między ludźmi różnych religii.

#### Zadanie 11. (0-3)

Uzupełnij tekst. Wpisz obok każdego zdania dobrą literę.

11.1. Przedstawione w tekście porozumienie podpisano w \_\_\_\_\_.

- A. XIV w.
- B. XV w.
- C. XVI w.

11.2. Tekst mówi o tym, że szlachta otrzymała \_\_\_\_\_.


- A. przywileje ekonomiczne
- B. tolerancję religijną
- C. wzajemną pomoc

11.3. Tekst mówi o prawach charakterystycznych dla \_\_\_\_\_.

- A. monarchii patrymonialnej
- B. rządów absolutnych
- C. demokracji szlacheckiej

**Tekst i ilustracja do zadania 12.**

"Życzymy wszyscy mieć królem Henryka" – te słowa krzykali posłowie wybierając króla.



Źródło: Bernardo Bellotto [za:] [www.warszawska-wola.strefa.pl](http://www.warszawska-wola.strefa.pl)

**Zadanie 12. (0–1)**

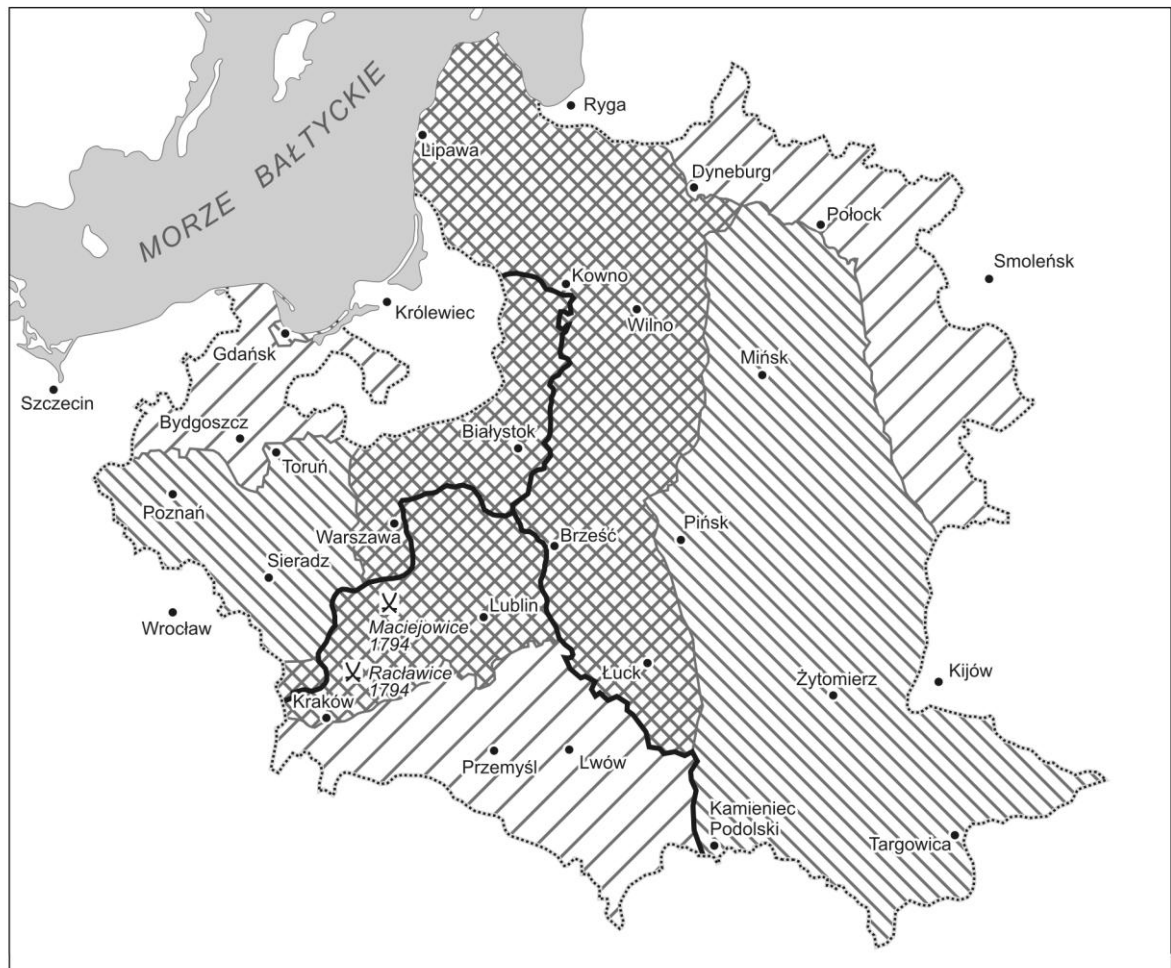
**Zaznacz dobrą odpowiedź.**

Tekst i ilustracja mówią o

- A. rokoszu.
- B. wolnej elekcji.
- C. sejmiku ziemskim.
- D. pospolitym ruszeniu.

## Mapa do zadań 13. i 14.

### Rozbiory Rzeczypospolitej



- x bitwy
- ..... granica Rzeczypospolitej do 1772 r.
- ▨ ziemię przyłączone do Rosji, Austrii i Prus w 1772 r.
- ▧ ziemię przyłączone do Rosji i Prus w 1793 r.
- ▩ ziemię przyłączone do Rosji, Austrii i Prus w 1795 r.

Na podstawie: *Wielki atlas historyczny*, red. E. Olczak, J. Tazbir, Warszawa 2002.

#### Zadanie 13. (0–1)

Zaznacz dobrą odpowiedź.

Szereg, w którym uporządkowano chronologicznie miasta Rzeczypospolitej przyłączone do Austrii, Prus, Rosji, to

- A. Warszawa → Lwów → Mińsk.
- B. Mińsk → Wilno → Bydgoszcz.
- C. Poznań → Bydgoszcz → Warszawa.
- D. Lwów → Poznań → Wilno.

**Zadanie 14. (0–1)****Zaznacz dobrą odpowiedź.**

Bitwy przedstawione na mapie były w czasie powstania

- A. Chmielnickiego.
- B. kościuszkowskiego.
- C. listopadowego.
- D. styczniowego.

**Tekst do zadania 15.**

Po rządach króla Ludwika XVI Francja była republiką. Rządził m.in. Maksymilian Robespierre, który był jakobinem. W państwie był terror, wiele osób było aresztowanych i skazanych na śmierć bez wyroku sądu.

**Zadanie 15. (0–1)****Zdecyduj, czy zdania są prawdziwe, czy – fałszywe. Zaznacz P, jeśli zdanie jest prawdziwe, lub F – jeśli jest fałszywe.**

W okresie dyktatury jakobinów przestrzegano praw człowieka.	<b>P</b>	<b>F</b>
Przed republiką Francja była monarchią absolutną.	<b>P</b>	<b>F</b>

**Ilustracja do zadania 16.**



Źródło: <http://www.muzeumwp.pl/emwpaedia>

**Zadanie 16. (0–1)**

**Zaznacz powstanie A albo B, którego dotyczy ilustracja. Zaznacz uzasadnienie wyboru 1 albo 2.**

	<b>Powstanie</b>
<b>A.</b>	listopadowe
<b>B.</b>	styczniowe

	<b>Uzasadnienie</b>
<b>1.</b>	atak oddziału kosynierów
<b>2.</b>	walczący oddział armii polskiej

### **Tekst do zadania 17.**

Po kongresie wiedeńskim Niemcy były podzielone na wiele państw. Jednym z tych państw były Prusy. Pod przewodnictwem Otto Bismarcka Prusy walczyły „żelazem i krwią” o to, aby Niemcy były znowu jednym państwem. Po zwycięstwie Otto Bismarck został kanclerzem (premierem) Niemiec.

### **Zadanie 17. (0–1)**

**Zaznacz dobrą odpowiedź.**

Tekst mówi o

- A. zasadach kongresu wiedeńskiego.
- B. zjednoczeniu Niemiec.
- C. udziale Niemiec w walkach przeciw Napoleonowi I.
- D. zwycięstwie nad państwami ententy.

### **Zadanie 18. (0–3)**

**Uzupełnij tekst. Wpisz obok każdego zdania dobrą literę.**

**18.1.** Wynalezienie maszyny parowej spowodowało szybkie zmiany gospodarcze i społeczne nazywane rewolucją \_\_\_\_\_.

- A. przemysłową
- B. kulturalną
- C. informatyczną

**18.2.** Jednym ze skutków tych zmian było zmniejszenie pracowników w \_\_\_\_\_.

- A. rolnictwie
- B. przemyśle
- C. szkolnictwie

**18.3.** Krajem, w którym w XIX w. był najbardziej rozwinięty przemysł była \_\_\_\_\_.

- A. Wielka Brytania
- B. Francja
- C. Hiszpania

**Teksty do zadania 19.**

1. Prezes Rządu Narodowego w okresie powstania listopadowego. Przywódca ugrupowania emigracyjnego zwanego Hotelem Lambert.
2. Dyktator powstania styczniowego. Aresztowany i zabity w Cytadeli Warszawskiej.
3. Historyk, prezes założonego w czasie powstania listopadowego Towarzystwa Patriotycznego. Na emigracji kierował Komitetem Narodowym Polskim, a następnie Młodą Polską.

**Zadanie 19. (0–3)**

**Dopasuj do każdego tekstu postać. Zaznacz dobrą literę.**

<b>19.1.</b>	Tekst 1.	<b>A</b>	<b>B</b>	<b>C</b>	<b>D</b>
<b>19.2.</b>	Tekst 2.	<b>A</b>	<b>B</b>	<b>C</b>	<b>D</b>
<b>19.3.</b>	Tekst 3.	<b>A</b>	<b>B</b>	<b>C</b>	<b>D</b>

- A. Adam Jerzy Czartoryski
- B. Joachim Lelewel
- C. Romuald Traugutt
- D. Tadeusz Kościuszko

**Zadanie 20. (0–2)**

**Wskaż wydarzenie chronologicznie pierwsze i wydarzenie chronologicznie ostatnie. Zaznacz dobrą literę.**

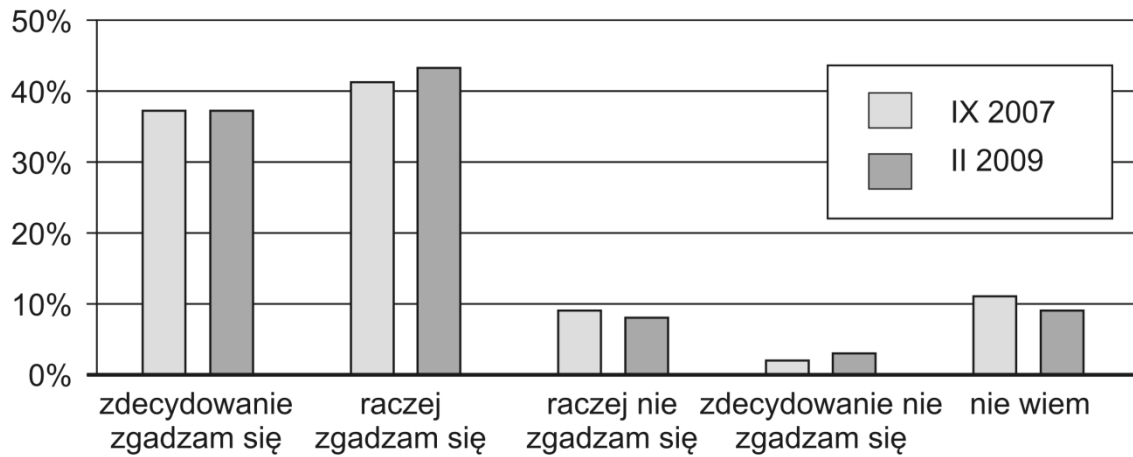
<b>20.1.</b>	Wydarzenie chronologicznie pierwsze	<b>A</b>	<b>B</b>	<b>C</b>	<b>D</b>
<b>20.2.</b>	Wydarzenie chronologicznie ostatnie	<b>A</b>	<b>B</b>	<b>C</b>	<b>D</b>

- A. Przyłączenie się Rosji do I wojny światowej.
- B. Udział Rosji w III rozbiórce Polski.
- C. Zdobycie władzy przez bolszewików w Rosji.
- D. Zwycięstwo Rosji w powstaniu styczniowym.

**Diagram do zadania 21.**

Dziesięć lat w NATO

**Czy Pan(i) zgadza się na przynależność  
Polski do NATO, czy jest przeciwny(a)?**



Na podstawie: Komunikat z badań CBOS. BS/38/2009.

**Zadanie 21. (0–1)**

**Zdecyduj, które zdanie jest prawdziwe. Zaznacz P przy zdaniu prawdziwym.**

1.	W lutym 2009 roku procent osób, które <b>raczej zgadzały się</b> na przynależność Polski do NATO był mniejszy niż we wrześniu 2007 roku.	<b>P</b>
2.	We wrześniu 2007 roku procent osób, które <b>zdecydowanie nie zgadzały się</b> na przynależność Polski do NATO był większy niż w lutym 2009 roku.	<b>P</b>
3.	W lutym 2009 roku procent osób, które <b>zdecydowanie zgadzały się</b> na przynależność Polski do NATO był taki sam, jak we wrześniu 2007 roku.	<b>P</b>



**Ilustracje do zadania 22.**




Źródła: <http://www.17nt.wosp.preview.jpg>  
[http://www.x.garnek.pl/ga4414/\(...\)/11\\_listopada\\_2011\\_krakow.jpg](http://www.x.garnek.pl/ga4414/(...)/11_listopada_2011_krakow.jpg)  
<http://www.17nt.rm24.pl>  
<http://www.17nt.fakty.interia.pl>

**Zadanie 22. (0–1)**  
**Zaznacz dobrą odpowiedź.**

Jedną z form demokracji bezpośredniej przedstawiono na ilustracji oznaczonej numerem

- A. 1.
- B. 2.
- C. 3.
- D. 4.

**Schemat do zadania 23.**



**Zadanie 23. (0–1)**

**Zaznacz dobrą odpowiedź.**

Literą X oznaczono na schemacie

- A. burmistrza.
- B. starostę.
- C. sejmik.
- D. radę.

**Zadanie 24. (0–3)**

**Dopasuj do każdego zdania w tabeli ministerstwo. Zaznacz dobrą literę.**

24.1.	Pomaganie osobom niepełnosprawnym w zdobyciu pracy.	A	B	C	D
24.2.	Dbanie o bezpieczeństwo i porządek publiczny.	A	B	C	D
24.3.	Pomaganie obywatelom polskim, którzy są za granicą.	A	B	C	D

- A. Ministerstwo Pracy i Polityki Społecznej
- B. Ministerstwo Spraw Zagranicznych
- C. Ministerstwo Spraw Wewnętrznych
- D. Ministerstwo Obrony Narodowej

**Brudnopis**

Dotted lines for writing.